

**1. Milyen esetben közlekedhet a gyalogos az úttesten?**

- a) Mellékutcákban, ahol kicsi a forgalom.
  - b) Ha nincsen járda, és útpadka, leállósáv vagy kerékpárút sem.
  - c) Nappal, jó látási viszonyok között, ha nem jön autó.
- 

**2. Ha nincsen járda, ezért gyalogsként a kerékpárúton mész, hogyan kell ott közlekedned?**

- a) A kerékpárút szélén, menetiránnyal szemben.
  - b) A kerékpárút szélén, a menetiránynak megfelelően.
  - c) Nem közlekedhetek gyalogosan a kerékpárúton.
- 

**3. Mit jelent a gyalogoslámpa folyamatos zöld jelzése?**

- a) Át szabad kelni az úttesten.
- b) Nem szabad átkelni az úttesten.



**4. Mit jelent a gyalogoslámpa piros jelzése?**

- a) Körülnézés után gyorsan átfuthatok a zebrán.
- b) Átmehetek a zebrán, a piros lámpa csak tájékoztató jellegű.
- c) Meg kell állnom a zebránál.



**5. Mi a teendőd gyalogosan közlekedve akkor, ha nem működnek a közlekedési jelzőlámpák és át szeretnél menni az út túloldalára?**

- a) Nem mehetek át.
  - b) Megkeresem a legközelebbi működő jelzőlámpát.
-

- c) Alaposan körbenézek átkelés előtt.
- 

**6. Mi a teendő, ha át szeretnél kelni a gyalogos-átkelőhelyen, és a jelzőlámpa zölden villog?**

- a) Nem szabad már elindulni, meg kell várni a következő folyamatos zöld jelzést.
- b) Gyorsan kell átkelni, mielőtt még pirosra vált a lámpa.
- c) Át lehet kelni, a villogás csak azt jelzi, hogy piros jelzés következik.
- 

**7. Hogyan kell átkelni az úttesten, ha van kijelölt gyalogátkelőhely?**

- a) Körül kell nézni, és csak akkor lehet átkelni, ha nem jön autó.
- b) Körül kell nézni, és ha jön autó, meg kell győződnünk arról, hogy meg fog állni és átenged minket, azután átkelni.
- c) Körül kell nézni, és ha úgy látjuk, hogy az autó még elég messze van és meg tud állni, akkor átkelni.
- d) Körül kell nézni, és azután átkelni, mert nekünk van elsőbbségünk.
- 

**8. Mely érzékszerveket kell elsősorban használnod közlekedés közben?**

- a) A látás és a hallás érzékszerveit.
- b) A tapintás és a hallás érzékszerveit.
- c) A szaglás és a látás érzékszerveit.
- d) A hallás és az ízlelés érzékszerveit.
- 

**9. Nem kötelező felvenned a láthatósági mellényt...**

- a) este, sötétben.
- b) világosban.
- c) rossz látási viszonyok között.
- 

**10. Szerinted mikor láthatóak nehezen a gyalogosok a járművezetők számára?**

- a) Napsütéses időben.
- b) Sötétben, láthatósági ruházatban.
- c) Sötétedés után, ha sötét ruhát viselnek.
-

**11. Mit jelent az, hogy egy jármű használja a megkülönböztető jelzéseit?**

- a) Szirénázik.
  - b) Fényjelzést ad (villog).
  - c) Szirénázik és fényjelzést is ad egyszerre.
- 

**12. Mit teszel, ha szeretnél átkelni a zebrán, és megkülönböztető jelzést használó járművet hallasz közeledni?**

- a) Amilyen gyorsan tudok, átmegyek előtte.
  - b) Megvárom, míg elmegy a megkülönböztető jelzést használó jármű.
  - c) Felnőtt segítségét kérem az átkeléshez.
- 

**13. Mit teszel, ha zebránál állsz és hallod, hogy egy megkülönböztető jelzést használó jármű közeledik?**

- a) Elindulok, nekem van elsőbbségem.
  - b) Megállok, nincs elsőbbségem.
  - c) Elindulok, gyorsan átszaladok.
- 

**14. A buszról leszállva, ha át szeretnék menni az úton...**

- a) megkeresem a legközelebbi zebrát.
  - b) megvárom, míg elmegy a busz, és átkelek.
  - c) a busz mögött átmegyek az úton.
- 

**15. Igaz vagy hamis? Ha van járda az út mellett, a gyalogosok kizárólag a járdán közlekedhetnek.**

- a) Igaz.
  - b) Hamis.
- 

**16. Igaz vagy hamis? A járda általában alacsonyabban van, mint az úttest.**

- a) Igaz.
  - b) Hamis.
- 

**17. Igaz vagy hamis? A járdán biztonságosabb az úttól távolabb eső oldalon közlekedni.**

- a) Igaz.
  - b) Hamis.
-

**18. Igaz vagy hamis? Úttesten kizárólag gyalogátkelőhelyen, illetve alul- vagy felüljárón szabad átkelni.**

- a) Igaz.  
 b) Hamis.
- 

**19. Igaz vagy hamis? Ha nincs a közelben gyalogátkelőhely, az úttesten merőlegesen, a legrövidebb úton kelhetünk át.**

- a) Igaz.  
 b) Hamis.
- 

**20. Igaz vagy hamis? Ha nincs a közelben gyalogátkelőhely, sem útkereszteződés, akkor bárhol, bármilyen irányban átkelhetünk az úton.**

- a) Igaz.  
 b) Hamis.
-

**21. Igaz vagy hamis? Útkereszteződésben, ha nincs a közelben gyalogátkelőhely, a járda meghosszabbított vonalában kelhetünk át.**

- a) Igaz.  
 b) Hamis.
- 

**22. Igaz vagy hamis? A terepszínű ruházat segít abban, hogy jól látható légy.**

- a) Igaz.  
 b) Hamis.
- 

**23. Igaz vagy hamis? A csengő megszólalása után is fel lehet szállni a buszra.**

- a) Igaz.  
 b) Hamis.
- 

**24. Igaz vagy hamis? Csak álló járműre (buszra, villamosra, vonatra) szabad felszállni.**

- a) Igaz.  
 b) Hamis.
- 

**25. Igaz vagy hamis? Csak akkor szállok fel a buszra, ha már mindenki leszállt, aki szeretett volna.**

- a) Igaz.  
 b) Hamis.
-

**26. Igaz vagy hamis? A hátizsákot nem kell levenni a buszon, villamoson.**

- a) Igaz.  
 b) Hamis.
- 

**27. Igaz vagy hamis? Csak akkor kell kapaszkodni, ha gyorsan megy a busz vagy a villamos.**

- a) Igaz.  
 b) Hamis.
- 

**28. Igaz vagy hamis? Addig nem szabad leszállni tömegközlekedési járműről, amíg vannak felszálló utasok.**

- a) Igaz.  
 b) Hamis.
- 

**29. Igaz vagy hamis? Lehetőség szerint mindig állva utazz buszon, villamoson, trolibuszon.**

- a) Igaz.  
 b) Hamis.
- 

**30. Igaz vagy hamis? Ha hátizsákad van, akkor azt le kell venni az utazás során a buszon vagy a villamoson.**

- a) Igaz.  
 b) Hamis.
-

31. Igaz vagy hamis? Ha hangosan telefonálsz buszon, villamoson vagy vonaton, azzal nem zavarasz másokat.

- a) Igaz.  
 b) Hamis.
- 

32. Igaz vagy hamis? A világos ruházat segít, hogy jobban látható légy.

- a) Igaz.  
 b) Hamis.
- 

33. Igaz vagy hamis? A sötét ruházat segít, hogy jobban látható légy.

- a) Igaz.  
 b) Hamis.
- 

34. Melyik állítás igaz az alábbiak közül?

- a) A rendőri testhelyzet a járművezetőknek ad információt, a gyalogosokra nem vonatkozik.  
 b) Ha a rendőr veled szemben áll, az szabad utat jelez.  
 c) A rendőr függőlegesen felemelt karja a forgalom irányának megváltozását jelenti.
- 

35. Melyik jelzőtábla hátoldalát látod a képen?

- a) Kijelölt gyalogos-átkelőhely  
 b) Gyalogút  
 c) Vigyázz, gyalogosok!



36. Mit jelent, ha gyalogosan közlekedve oldalról látod a forgalmat irányító rendőrt a kereszteződésben?

- a) Átkelhetsz a kereszteződésen.
- b) Meg kell állnod, nem kelhetsz át a kereszteződésen.
- c) Csak az autóval közlekedőknek szabad az út.



37. Mit jelent a képen látható rendőr jelzése, ha gyalogosan közlekedsz?

- a) Átkelhetsz a kereszteződésen.
- b) Meg kell állnod, nem kelhetsz át a kereszteződésen.
- c) Csak az autóval közlekedőknek szabad az út.



38. A jelzőlámpa melyik jelzésének felel meg a rendőr jelzése?

- a) A
- b) B
- c) C





39. A jelzőlámpa melyik jelzésének felel meg a rendőr jelzése?

- a) A
- b) B
- c) C



40. A jelzőlámpa melyik jelzésének felel meg a rendőr jelzése?

- a) A
- b) B
- c) C



41. Egészítsd ki a mondatokat!

Az **(a)** az útnak a járművek közlekedésére szolgáló része.

A **(b)** az útnak az a része, ahol a gyalogosok közlekedhetnek.

Válaszok:

**(a)** úttest; uttest; útest

**(b)** járda; gyalogjárda; gyalogos járda; gyalogosjárda

42. Mit kell tenned, ha a gyalogoslámpán az alábbi jelzéseket látod? Írd a gyalogoslámpa jelzéseinek számát a tevékenységek mellé!

Elindulok a zebrán a másik oldalra: **(a)**

Gyorsabban megyek át a zebrán, hogy átérjek a másik oldalra: **(b)**

Megálllok a járdaszegélynél: **(c)**

Válaszok:

**(a)** 2

**(b)** 3

**(c)** 1



43. Válaszd ki azokat a táblákat, amelyek olyan helyet jelölnek, ahol lehet gyalogosan közlekedni! (2 helyes válasz)

- a) A
- b) B
- c) C
- d) D



44. Mely érzékedre van szükséged, amit szabaddá kell tenned, amikor közlekedsz? (2 helyes válasz)

- a) Látás.
- b) Szaglás.
- c) Hallás.

d) Ízezés.

---

**45. Válaszd ki, hogy gyalogként rossz látási viszonyok között mitől leszel jól látható! (3 helyes válasz)**

- a) Láthatósági mellény
  - b) Sötét nadrág
  - c) Fejvédő
  - d) Piros kabát
  - e) Fekete póló
  - f) Víz
  - g) Rikító ruházat
  - h) Térdvédő
  - i) Magassarkú cipő
  - j) Sportcipő
  - k) Fényvisszaverő matrica
  - l) Világosbarna kabát
- 



**46. Hol tudsz biztonságosan átkelni az úttesten? (2 helyes válasz)**

- a) Autóbusz mögött.
  - b) Parkoló autók között.
  - c) Gyalogos-átkelőhelyen (zebrán).
  - d) Jól belátható útszakaszon (ha nincs zebra).
- 

**47. Válogasd ki az alábbiak közül azokat a tárgyakat, amelyek ronthatják a láthatóságot az út mellett! (3 helyes válasz)**

- a) Hirdetőoszlop
  - b) Kutya
  - c) Fa
  - d) Parkoló jármű
  - e) Jelzőlámpa
- 

**48. Jelöld meg, hogy melyik állítás igaz! (2 helyes válasz)**

- a) Leveszem a hátizsákomat, ha buszon, villamoson, trolibuszon utazok.
  - b) Felszálláskor közvetlenül az ajtóhoz állok, hogy minél gyorsabban fel tudjak szállni.
  - c) Nem adom át a helyem senkinek, mert ülve utazni a legbiztonságosabb.
-

- d) Jó az egyensúlyérzésem, ezért nem kell kapaszkodnom, ha állva utazok.
- e) A járművön nem étkezek.
- 

**49. Állítsd helyes sorrendbe az alábbi állításokat!**

1. Busz érkezésekor megvárom a leszálló utasokat.
  2. Felszálllok a buszra.
  3. Ülőhelyet keresek.
  4. Jelzem leszállási szándékomat.
  5. Leszálllok a buszról.
- 

**50. Egészítsd ki a mondatot!**

Ha lakott területen kívül **(a)** vagy **(b)** látási viszonyok között gyalogolsz, akkor kötelező a **(c)** viselése.

**Válaszok:**

**(a)** este;éjszaka;sötétben

**(b)** rossz;rosz

**(c)** láthatósági mellény;láthatósági mellény;láthatósági melény;láthatósági melény;jóláthatósági mellény;jólláthatósági mellény;jólláthatósági melény;jólláthatósági melény;jólláthatósági melény;jóláthatósági láthatósági mellény;jóláthatósági melény;jóláthatósági melény;joláthatósági mellény;joláthatósági melény;joláthatósági melény;joláthatósági mellény

---

51. Egészítsd ki a mondatot!

Soha ne lépj ki az **(a)** téged eltakaró **(b)** tárgy mögül!

Válaszok:

**(a)** útra;úttestre;utra;uttestre;útestre; utestre

**(b)** nagy;nagyobb;nagyob

52. Egészítsd ki a mondatot!

**(a)** jelzést (fény- és hangjelzést együtt) használó járműveknek minden esetben **(b)** van a többi közlekedővel szemben!

Válaszok:

**(a)** megkülönböztető;megkülömböztet ő;megkülönböztető;megkülömbözt ető;Megkülönböztető;Megkülömb öztető;Megkülönböztető;Megkülö mböztető

**(b)** elsőbbségük;elsőbségük;elsőségük; elsőbbségük;elsőbségük;elsőbbség e;elsőbsége;elsősege;elsőbbsége;el söbsége



53. Egészítsd ki a mondatot!

Tilos a **(a)** lépcsőjén utazni, kihajolni az **(b)** és a **(c)** zavarai a vezetésben!

Válaszok:

**(a)** jármű;busz;villamos;trolibusz;trolis;vonat;vilamos;autóbusz;autobusz

**(b)** ablakon;ablakán

**(c)** járművezetőt;vezetőt;sofőrt;vezetőt

54. Milyen színű fénye lehet a kerékpár hátsó lámpájának?

- a) Sárga  
 b) Piros  
 c) Fehér

55. Miért ajánlott kerékpáros fejkendőt hordani?

- a) Mert ha nem viseled, megbüntetés érte a rendőrt.  
 b) Mert baleset esetén megvédi a komolyabb fejsérülésektől.  
 c) Mert a KRESZ szerint mindig kötelező viselni.  
 d) Mert nagyobb sebességgel szabad közlekedni, ha rajta van.

**56. Miért fontos, hogy megfelelő méretű kerékpárod legyen?**

- a) Megfelelő méretű bringával sokkal gyorsabban tudsz haladni.
  - b) Megfelelő méretű bringával sokkal biztonságosabb a biciklizés.
  - c) Megfelelő méretű bringával sokkal gyorsabban meg lehet állni.
- 

**57. Milyen magasságba kell állítani a kerékpár nyergét?**

- a) A nyeregben ülve a legalsó helyzetben álló pedálon lévő láb kissé be legyen hajlítva.
  - b) A nyeregben ülve a legalsó helyzetben álló pedálon lévő láb éppen egyenes legyen.
  - c) A nyeregben ülve a legalsó helyzetben álló pedálon lévő láb teljesen be legyen hajlítva.
- 

**58. Milyen gyakran kell ellenőrizni a bringádon a kötelező felszereléseket és az alkatrészek megfelelő működését?**

- a) Hosszabb túrák előtt.
  - b) Havonta egyszer.
  - c) Évente kétszer.
  - d) Minden alkalommal bringázás előtt.
- 

**59. Milyen gyakran kell szervizbe vinni bringádat?**

- a) Havonta.
  - b) Egy évben legalább egyszer.
  - c) 2-3 évente.
  - d) Csak akkor kell szervizbe vinni, ha valami elromlott.
- 

**60. Igaz vagy hamis? A láthatósági mellény segít abban, hogy jól látható légy.**

- a) Igaz.
  - b) Hamis.
-

**61. Igaz vagy hamis? A sötét ruházat segít abban, hogy jól látható légy.**

- a) Igaz.  
 b) Hamis.
- 

**62. Igaz vagy hamis? A bokádon lévő fényvisszaverő pánt segítheti, hogy jobban látható légy.**

- a) Igaz.  
 b) Hamis.
- 

**63. Igaz vagy hamis? Sötétben nem kötelező használni a kerékpár világítását.**

- a) Igaz.  
 b) Hamis.
- 

**64. Igaz vagy hamis? A megfelelő bukósisak védi a halántékokodat, homlokodat és tarkódat is.**

- a) Igaz.  
 b) Hamis.
- 

**65. Igaz vagy hamis? A bukósisak megvéd a balesetek bekövetkezésétől.**

- a) Igaz.  
 b) Hamis.
- 

**66. Igaz vagy hamis? A kerékpáros fejkendő használata minden esetben kötelező, ha bringára ülsz.**

- a) Igaz.  
 b) Hamis.
- 

**67. Igaz vagy hamis? A sisaknak vízszintesen kell feküdnie a fejedben, és a szélénél kétujjnyi magasságban kell lennie a szemed felett.**

- a) Igaz.  
 b) Hamis.
-

68. Igaz vagy hamis? A kerékpár mérete nem fontos a kényelem és a biztonság szempontjából, csak az, hogy jól legyen beállítva.

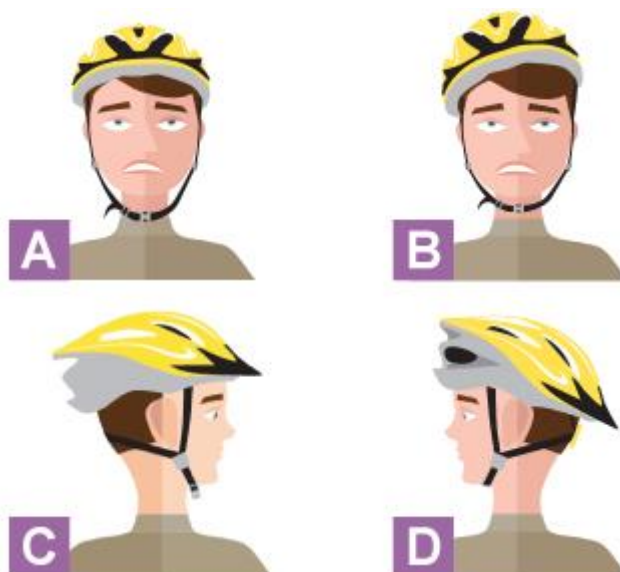
- a) Igaz.  
 b) Hamis.

69. Igaz vagy hamis? Már a vásárláskor oda kell figyelni arra, hogy megfelelő méretű kerékpárt válasszunk.

- a) Igaz.  
 b) Hamis.

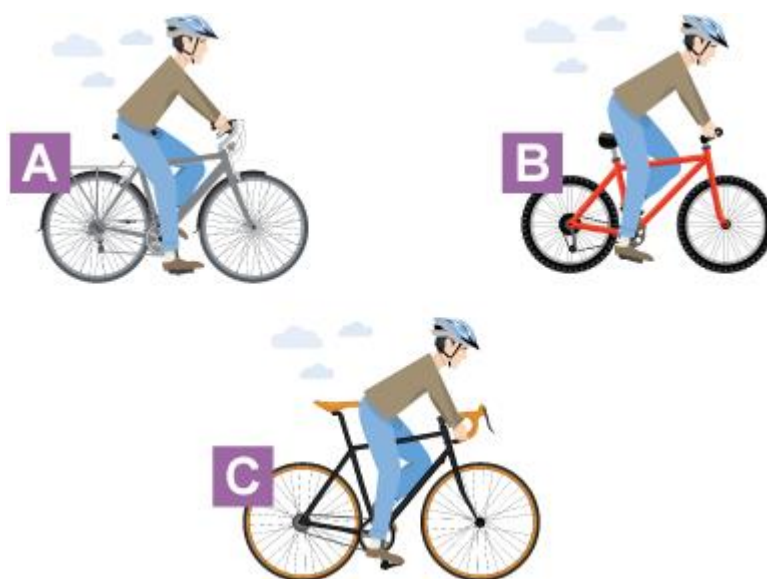
70. Válaszd ki azt a képet, amelyiken megfelelően van a sisak a gyerek fején!

- a) A  
 b) B  
 c) C  
 d) D



71. Válaszd ki azt a képet, amin megfelelő méretű bringán ül a gyerek!

- a) A  
 b) B  
 c) C





72. Válaszd ki azt a képet, amelyiken jól van beállítva a nyereg magassága!

- a) A
- b) B
- c) C



73. Válaszd ki a kerékpár kötelező felszereléseit a felsoroltak közül! (3 helyes válasz)

- a) Első lámpa
- b) Pedálprizma
- c) Nyereg
- d) Hátsó prizma
- e) Kormány
- f) Sárvédő

74. Válaszd ki a kerékpár ajánlott felszereléseit a felsoroltak közül! (3 helyes válasz)

- a) Első lámpa
- b) Pedálprizma
- c) Visszapillantó tükör
- d) Hátsó prizma
- e) Kormány
- f) Sárvédő

75. Egészítsd ki a mondatot!

A kerékpárt fel kell szerelni (a) fényű hátsó lámpával.

Válasz:

(a) piros

**76. Melyek a kötelező felszerelések egy kerékpáron?  
(3 helyes válasz)**

- a) Első és hátsó lámpa
  - b) Csomagtartó
  - c) Csengő
  - d) Sárvédő
  - e) Küllőprizma az első keréken (2 darab)
- 

**77. Este biciklivel szeretnél átmenni az egyik osztálytársadhoz. Mit célszerű felvinned, és mivel kell feltétlenül felszerelni a bringádat? (3 helyes válasz)**

- a) Sapka
  - b) Küllőprizma
  - c) Hosszú fekete nadrág
  - d) Első és hátsó prizma
  - e) Fekete pulóver
  - f) Fényvisszaverő csíkkal ellátott táska/ruházat
- 

**78. Válaszd ki azokat a kötelező felszereléseket, amelyek segítenek abban, hogy jobban látható legyél! (2 helyes válasz)**

- a) Csengő
  - b) Első (fehér) prizma
  - c) Kormány
  - d) Hátsó (piros) lámpa
  - e) Első és hátsó fék
- 

**79. Mely eszközök segítik azt, hogy látható legyen a kerékpárod sötétben? (3 helyes válasz)**

- a) Működő első és hátsó lámpa
  - b) Küllőprizma
  - c) Kormány
  - d) Első és hátsó fék
  - e) Első és hátsó prizma
- 

**80. Mely alkatrészeket kell ellenőrizni a bicikliden minden alkalommal indulás előtt? (2 helyes válasz)**

---

- a) Fékek megbízható működése.
  - b) Kulacstartó megléte.
  - c) Pumpa megléte, működése.
  - d) Kormány megbízható működése.
  - e) Sárvédő rögzítése.
- 

**81. Válaszd ki a felsoroltak közül, hogy mi az, amit minden elindulás előtt ellenőrizni kell a bringádon! (3 helyes válasz)**

- a) Elég keményre vannak fújva a gumik?
  - b) Megfelelően fognak a fékek?
  - c) Csomagtartó van a kerékpáron?
  - d) Kulacstartó, kulacs van a kerékpáron?
  - e) A kerékpárvázon a festés nincs elkopva?
  - f) A kormány könnyen forgatható minden irányba?
- 

**82. Egészítsd ki a mondatot!**

Elindulás előtt ellenőrizni kell, hogy a kerékpárodon megvannak-e a KRESZ által előírt (a) felszerelések és azok (b) működnek-e.

Válaszok:

(a) kötelező

(b) megfelelően; jól; jól

---

**83. Egészítsd ki a mondatot!**

Bringásként (a) területen kívül, (b) és (c) látási viszonyok esetén kötelező láthatósági ruházatot viselned.

Válaszok:

(a) lakott;lakot

(b) este;sötétben

(c) rossz;rosz

---

84. Melyik kerékpár nem alkalmas forgalomban való közlekedésre?  
(2 helyes válasz)

- a) A
- b) B
- c) C
- d) D
- e) E



85. Hol haladhatsz kerékpárral egyenes vonalban, ha nincs kerékpárút?

- a) A járdán.
- b) Sehol.
- c) Az úttest jobb szélén.
- d) Az úttest bal szélén.

86. Kerékpárral az úttesten...

- a) nem szabad közlekedni.
- b) a menetirány szerinti jobb oldalon kell közlekedni.
- c) a menetirány szerinti bal oldalon kell közlekedni.
- d) csak felnőttek közlekedhetnek.

87. Bemehetek biciklivel egyirányú utcába a forgalommal szemben haladva, ha...

- a) benéztem az utcába és nem jön szemből autó.
- b) ezt külön tábla jelzi.
- c) elég széles az úttest, és ránézésre elférek.

**88. Főútvonalon nem szabad kerékpárral közlekedni...**

- a) 10 éves kor alatt.
- b) 12 éves kor alatt.
- c) 14 éves kor alatt.



---

**89. Mit teszel, ha stoptáblához érsz?**

- a) Haladok tovább, mert az csak az autóknak szól.
- b) Lassabban hajtok.
- c) Megállok, körülnézek és elengedem, ha jön valamilyen jármű.



---

**90. Hogyan kell közlekedned kerékpárosként az "Állj! Elsőbbségadás kötelező!" (STOP) táblához érve?**

- a) Mindig meg kell állni, körülnézni és elsőbbséget adni a másik úton közlekedőnek.
- b) Meg kell állni, de elsőbbséget nem kell adni.
- c) Elsőbbséget kell adni a másik úton közlekedőnek, de megállni nem szükséges, elég lassítani.
- d) A jobbkéz-szabálynak megfelelően kell elsőbbséget adni.



---

**91. Mit kell tenned, ha kerékpárral közlekedve irányt akarsz váltani?**

---

- a) Semmit, arra megyek, amerre akarok, ha azt tábla nem tiltja.
  - b) Hátranézek, majd a karomat kinyújtom arra az oldalra, amerre irányt akarok váltani.
  - c) A karomat kinyújtom arra az oldalra, amerre irányt akarok váltani.
- 

**92. Milyen távolságban kerülsz ki egy út szélén parkoló autót kerékpárral közlekedve?**

- a) Olyan közel megyek hozzá, amennyire lehet, hogy ne zavarjam a többi közlekedőt.
  - b) Karnyújtásnyi távolságra.
  - c) Ajtónyitási távolságra.
- 

**93. Mikor és hogyan szabad az úttesten kerékpárral közlekedni? Jelöld be a helyes választ!**

- a) Ha túl sokan vannak a kerékpárúton, akkor felmehetek az úttestre, de csak a jobb oldalán közlekedhetek.
  - b) Az úttesten bármikor lehet kerékpárral közlekedni, az autókkal egy sorban haladva.
  - c) Ha nincs sem kerékpárút, sem kerékpársáv, akkor az úttest jobb oldalán, a többi kerékpárossal egymás mögött haladva közlekedhetek.
  - d) Az úttesten soha, semmilyen körülmények között nem szabad kerékpárral közlekedni.
- 

**94. Igaz vagy hamis? A kerékpárosok kizárólag kerékpárúton közlekedhetnek.**

- a) Igaz.
  - b) Hamis.
- 

**95. Igaz vagy hamis? A kétirányú kerékpárúton mindkét irányban szabad tekerni.**

- a) Igaz.
  - b) Hamis.
- 

**96. Igaz vagy hamis? Ha kerékpárutat, gyalog- és kerékpárutat vagy kerékpársávot látsz, kerékpárral ott kell közlekedned.**

- a) Igaz.
  - b) Hamis.
-

**97. Igaz vagy hamis? Ha nem látsz sem kerékpárutat, sem kerékpársávot, akkor az úttest bal oldalán kell közlekedni kerékpárral.**

- a) Igaz.  
 b) Hamis.
- 

**98. Igaz vagy hamis? Főútvonalon 12 éves kor alatt tilos kerékpározni.**

- a) Igaz.  
 b) Hamis.
- 

**99. Igaz vagy hamis? Autópályán vagy autóúton az úttest jobb oldalán szabad kerékpárral közlekedni.**

- a) Igaz.  
 b) Hamis.
- 

**100. Igaz vagy hamis? Több kerékpárosnak mindig egymás mellett kell haladnia az úttesten.**

- a) Igaz.  
 b) Hamis.
- 

**101. Igaz vagy hamis? Zebrán tilos áttolni a kerékpárt.**

- a) Igaz.  
 b) Hamis.
- 

**102. Hány éves kortól szabad főútvonalon biciklizni?**

- a) 10 éves kortól.  
 b) 12 éves kortól.  
 c) 14 éves kortól.
- 

**103. Igaz vagy hamis? Nagy ködben csökken a látótávolság.**

- a) Igaz.  
 b) Hamis.
-

**104. Szabad-e behajtani kerékpárral a jelzőtáblával jelzett útra?**

- a) Igen.
- b) Nem.
- c) Igen, de csak kétkerekű kerékpárral.
- d) Igen, de csak 06:00 és 22:00 óra között.



**105. Ha fehéren villog a fénySOROMPÓ a vasúti átjárónál, ...**

- a) át szabad menni, de akkor is körül kell nézni áthaladás előtt.
- b) akkor is meg kell állni és körülnézni, hogy nem jön-e vonat.
- c) akkor meg kell állni és megvárni, amíg a vonat elhalad.



**106. Ha csak András-kereszt jelzi a vasúti átjárót, ...**

- a) át szabad menni, de akkor is körül kell nézni áthaladás előtt.
- b) akkor is meg kell állni és körülnézni, hogy nem jön-e vonat.
- c) akkor nagyon óvatosan, alaposan körülnézve szabad csak áthaladni, és szükség esetén meg kell állni.





**107. Ha a sorompó le van eresztve és pirosan villog a jelzőlámpa, ...**

- a) át szabad menni, de akkor is körül kell nézni áthaladás előtt.
- b) akkor meg kell állni és körülnézni, hogy nem jön-e vonat.
- c) akkor meg kell állni és megvárni, amíg a vonat elhalad.



**108. Mit jelent a rendőr jelzése?**

- a) Egyenesen lehet továbbhaladni.
- b) Meg kell állni.
- c) Csak jobbra és balra lehet kanyarodni.



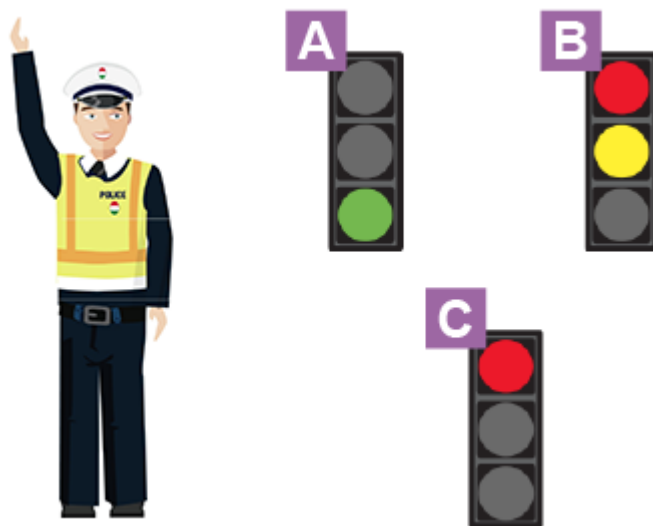
**109. Mit jelent, ha kerékpárral közlekedve oldalról látod a forgalmat irányító rendőrt a kereszteződésben?**

- a) Szabad az út, áthaladhatsz a kereszteződésen.
- b) Meg kell állni a kereszteződés előtt.
- c) Csak jobbra és balra lehet kanyarodni.




110. A jelzőlámpa melyik jelzésének felel meg a rendőr jelzése?

- a) A
- b) B
- c) C



111. Melyik rendőri jelzést látva kell megállnod?

- a) A
- b) B
- c) C



112. Hol közlekedik a képen látható kerékpáros?

- a) Kerékpárúton.
- b) Kerékpársávon.
- c) Gyalog- és kerékpárúton.



113. Hol közlekedik a képen látható kerékpáros?

- a) Kerékpárúton.
- b) Kerékpársávon.
- c) Gyalog- és kerékpárúton.



114. Hol közlekedik a képen látható kerékpáros?

- a) Kerékpárúton.
- b) Kerékpársávon.
- c) Gyalog- és kerékpárúton.



115. Mi a teendőd kerékpárral közlekedve, ha megkülönböztető jelzést használó járművet hallasz közeledni?

- a) Amilyen gyorsan csak tudok, lehúzódok az út szélére.
- b) Amilyen gyorsan csak tudok, eltekerek a következő utcáig, és ott engedem el a járművet.
- c) Semmi, a bicikliseket könnyen ki tudja kerülni a jármű.

116. Kinek van elsőbbsége a képen látható helyzetben?

- a) A fehér ruhás gyalogosnak.
- b) A kerékpárosnak.
- c) A gyalogos párnak.



117. Kinek van elsőbbsége a képen látható helyzetben?

- a) A kék ruhás gyalogosoknak.
- b) A piros autónak.
- c) A kerékpárosnak.



118. Kinek van elsőbbsége a képen látható helyzetben?

- a) A kék ruhás gyalogosoknak.
- b) A zöld autónak.
- c) A kerékpárosnak.



119. Kinek van elsőbbsége a képen látható helyzetben?

- a) A zöld autónak.
- b) A piros autónak.
- c) A kerékpárosnak.



120. A képen látható helyzetben a kerékpárosnak van elsőbbsége.

- a) Igaz.
- b) Hamis.





121. Kinek van elsőbbsége a képen látható helyzetben?

- a) A gyalogosan közlekedő anyukának és gyermekének.
- b) A zöld autónak.
- c) A kerékpárosnak.



122. A képen látható helyzetben a kerékpárosnak van elsőbbsége.

- a) Igaz.
- b) Hamis.



123. A képen látható helyzetben a kerékpárosnak van elsőbbsége.

- a) Igaz.
- b) Hamis.



124. A képen látható helyzetben a gyalogos párnak van elsőbbsége.

- a) Igaz.
- b) Hamis.



125. Ha sötét a fényoszorompó a vasúti átjárónál, akkor...

- a) nem szabad átmenni.
- b) meg kell állni, és megvárni, amíg újra jól működik.
- c) meg kell állni, körülnézni, és ha jön vonat, meg kell várni, amíg elhalad.



126. Ha pirosan villog a fényoszorompó a vasúti átjárónál, akkor...

- a) nem szabad átmenni, amíg nem vált fehérre villogóra.
- b) meg kell állni, meg kell várni a vonat elhaladását, és utána át lehet menni.
- c) meg kell állni, körül kell nézni, és ha nem jön vonat, át lehet menni.



127. A képen látható helyzetben a kerékpárosnak van elsőbbsége.

- a) Igaz.
- b) Hamis.



**128. Hogyan kell közlekedned kerékpárosként az "Elsőbbségadás kötelező!" táblához érve?**

- a) Lehet, hogy meg kell állni, körülnézni és elsőbbséget adni a másik úton közlekedőnek.
- b) Meg kell állni, de elsőbbséget nem kell adni.
- c) Mindig meg kell állni és körül kell nézni.
- d) A jobbkéz-szabálynak megfelelően kell elsőbbséget adni.



---

**129. Hol nem szabad biciklizni? (3 helyes válasz)**

- a) Autópályán.
- b) Úttesten.
- c) Autóúton.
- d) Kerékpárúton.
- e) Úttesten akkor, ha van vele párhuzamosan kerékpárút.

---

**130. Hogyan kanyarodsz jobbra kerékpárral? Tedd sorrendbe!**

1. Hátranézek.
2. A jobb kezemmel jelzem, hogy jobbra szeretnék kanyarodni.
3. Kanyarodás előtt mindkét kezemmel megfogom a kormányt.
4. Figyelek a forgalomra és az elsőbbségi szabályokra.
5. Kis ívben jobbra kanyarodok.
6. Figyelek a gyalogosokra.

---

**131. Hogyan tudsz biztonságosan csomagot szállítani bringázás közben? (2 helyes válasz)**

- a) A kormányra akasztva.
  - b) Hátizsákban.
  - c) Kezemben tartva, szatyorban.
  - d) Kormányon lévő kosárban.
-

**132. Hol és hogyan tudod otthon biztonságosan tárolni a kerékpárod? Jelöld be a helyes válaszokat! (3 helyes válasz)**

- a) Biciklitárolóban, zárral ellátva.
  - b) A lakásban, úgy elhelyezve, hogy ne legyen útban (pl. falra függesztve).
  - c) Az út szélén, ahol van hely.
  - d) Zárt garázsban.
  - e) Lépcsőházban.
  - f) Autóknak szánt parkolóban is tárolhatom.
- 

**133. Hogyan kerülheted el kerékpárral egy nagy jármű holtterét? Jelöld be, melyik állítás igaz az alábbiak közül! (3 helyes válasz)**

- a) Soha ne állj meg közvetlenül egy nagy jármű előtt, mögött vagy mellett!
  - b) Integetéssel jelezz a jármű vezetőjének, hogy biztosan észrevegye, hogy mellette haladsz!
  - c) Hajtsd gyorsabban a biciklidet, hogy minél hamarabb leelőzd a nagy járművet!
  - d) Mindig próbálj szemkontaktust teremteni a jármű vezetőjével!
  - e) Soha ne előzz le jobb oldalról nagy járművet egy kereszteződésnél!
- 

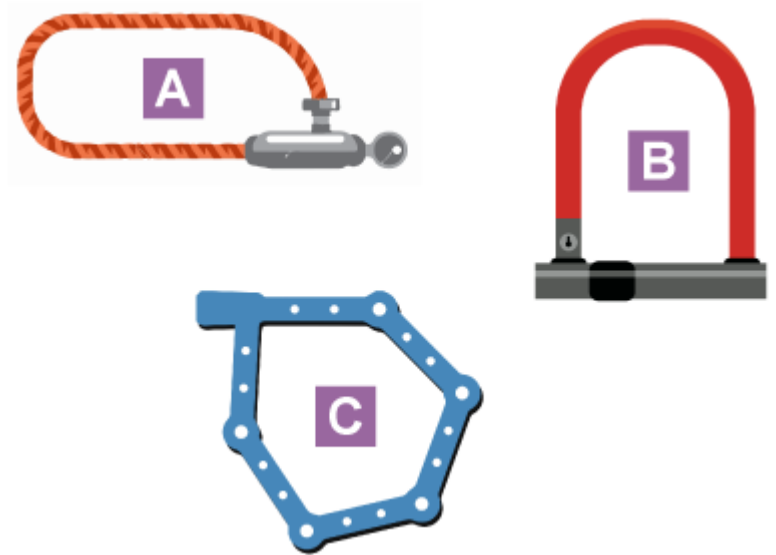
**134. Melyik használhat megkülönböztető jelzést az alábbi járművek közül? Válogasd ki a helyes válaszokat! (3 helyes válasz)**

- a) Mentőautó
  - b) Rendőrautó
  - c) Kukásautó
  - d) Kamion
  - e) Tűzoltóautó
  - f) Markoló
-



135. Jelöld be azokat az eszközöket, amelyekkel biztonságosan lezárhatod a bringát! (2 helyes válasz)

- a) A
- b) B
- c) C
- d) D




136. Jelöld be azokat a táblákat, amelyeknél tilos kerékpározni! (2 helyes válasz)

- a) A
- b) B
- c) C
- d) D



137. Melyik tábla tiltja az alábbiak közül a kerékpárosok közlekedését?

- a) A
- b) B
- c) C
- d) D



138. Válaszd ki a főútvonalat jelző táblát!

- a) A
- b) B
- c) C
- d) D



139. Hogyan lehet megismerni a veszélyt jelző táblákat?

- a) Rájuk van írva, hogy veszély.
- b) Háromszög alakúak, piros szegéllyel.
- c) Kör alakúak, kék háttérrel.

140. Hogyan lehet megismerni a tiltást jelző táblákat?

- a) Nagy, piros felkiáltójel van rajtuk.
- b) Kör alakúak, piros szegéllyel.
- c) Háromszög alakúak, piros szegéllyel.

141. Milyen szín nincs a "Szembejövő forgalom elsőbbsége" jelzőtáblán?

- a) Piros
- b) Fekete
- c) Kék
- d) Fehér

**142. Hogyan kell közlekedned kerékpárosként az "Elsőbbségadás kötelező!" táblához érve?**

- a) Lehet, hogy meg kell állni, körülnézni és elsőbbséget adni a másik úton közlekedőknek.
- b) Meg kell állni, de elsőbbséget nem kell adni.
- c) Mindig meg kell állni és körül kell nézni.
- d) A jobbkéz-szabálynak megfelelően kell elsőbbséget adni.



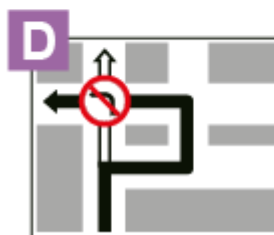

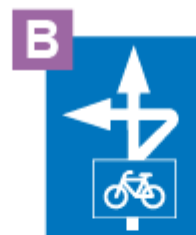
**143. Mit jelent a jelzőtábla?**

- a) Kerékpáros közvetett kapcsolat
- b) Egyenrangú útkereszteződés
- c) Útkereszteződés alárendelt úttal
- d) Balra kanyarodni tilos



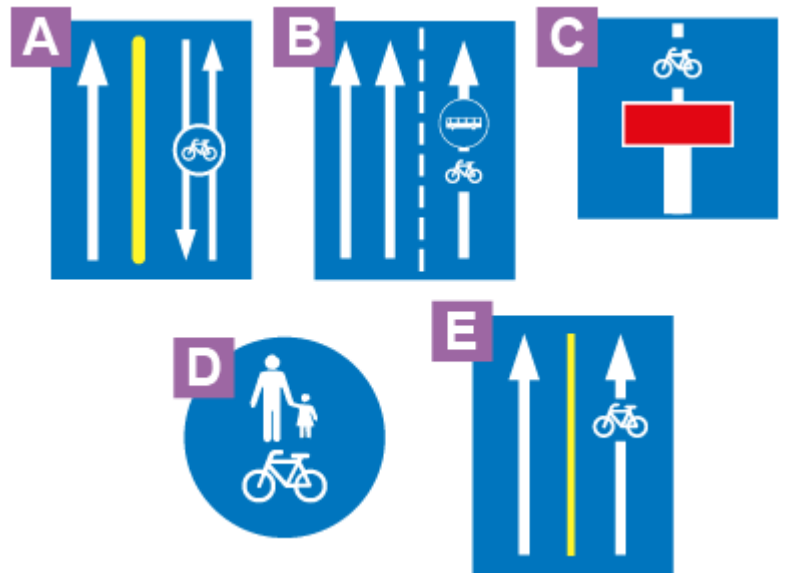
**144. Az alábbiak közül melyik jelzőtábla jelzi azt, hogy a következő útkereszteződésben a jobbról érkező járműé az elsőbbség?**

- a) A
- b) B
- c) C
- d) D
- e) E




145. Az alábbiak közül melyik jelzőtábla jelzi a kerékpársávot?

- a) A
- b) B
- c) C
- d) D
- e) E




146. Az alábbiak közül melyik jelzőtábla jelzi azt, hogy kerékpárral közlekedve biztosan meg kell állnod?

- a) A
- b) B
- c) C
- d) D
- e) E



147. Az alábbiak közül melyik jelzőtábla jelzi azt, hogy az úton sorompó nélküli vasúti átjáró van?

- a) A
- b) B
- c) C
- d) D
- e) E



**148. Szabad-e behajtani kerékpárral a jelzőtáblával jelzett útra?**

- a) Igen, de csak akkor, ha nem szállítok utast.
- b) Nem, csak taxik hajthatnak be az útszakaszra.
- c) Igen, korlátozás nélkül behajthatok az útra.



**149. Milyen irányban haladhatsz tovább a kerékpároddal a jelzőtáblával jelzett következő útkereszteződésben?**

- a) Csak jobbra.
- b) Egyenesen vagy jobbra.
- c) Bármely irányban.
- d) Csak egyenesen.



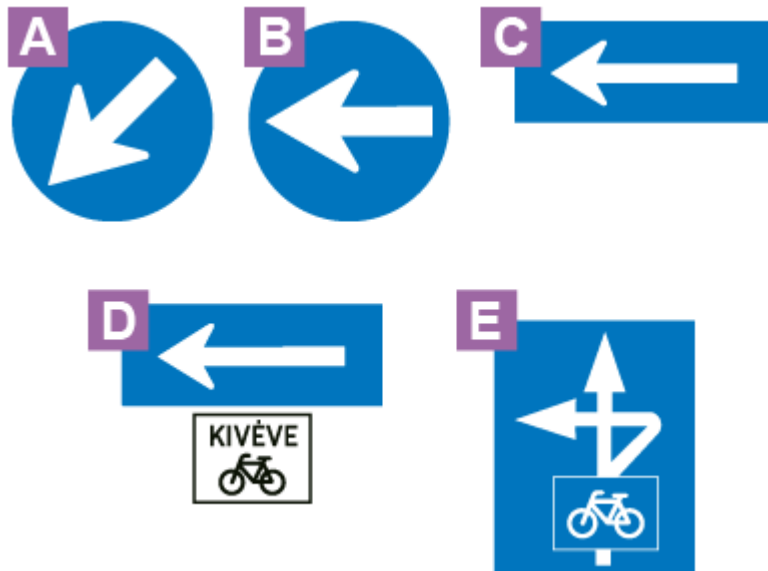
**150. Milyen sebességgel közlekedhetsz kerékpárral a jelzőtáblával jelzett övezetben?**

- a) Legfeljebb 10 km/h-s sebességgel.
- b) Legfeljebb 20 km/h-s sebességgel.
- c) Legfeljebb 30 km/h-s sebességgel.
- d) Legfeljebb 40 km/h-s sebességgel.



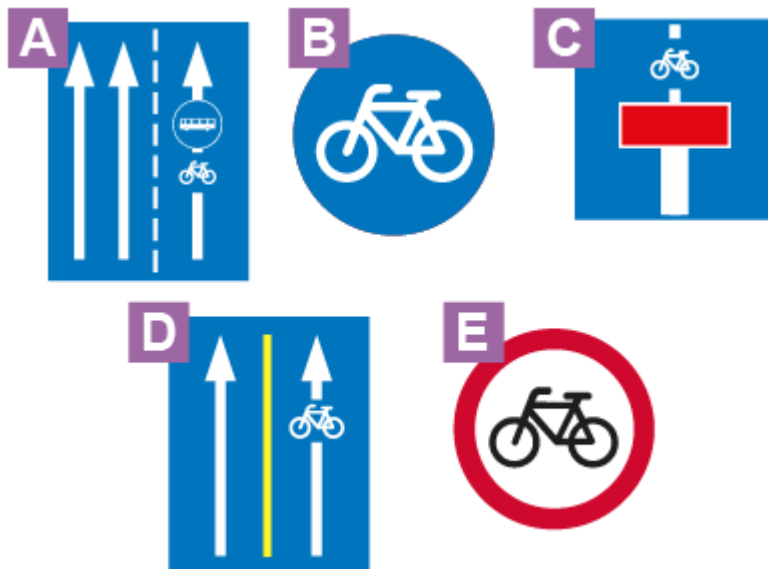
151. Az alábbiak közül melyik jelzőtábla jelzi azt, hogy kerékpárral közlekedve a következő útkereszteződésben balra kell kanyarodnod?

- a) A
- b) B
- c) C
- d) D
- e) E



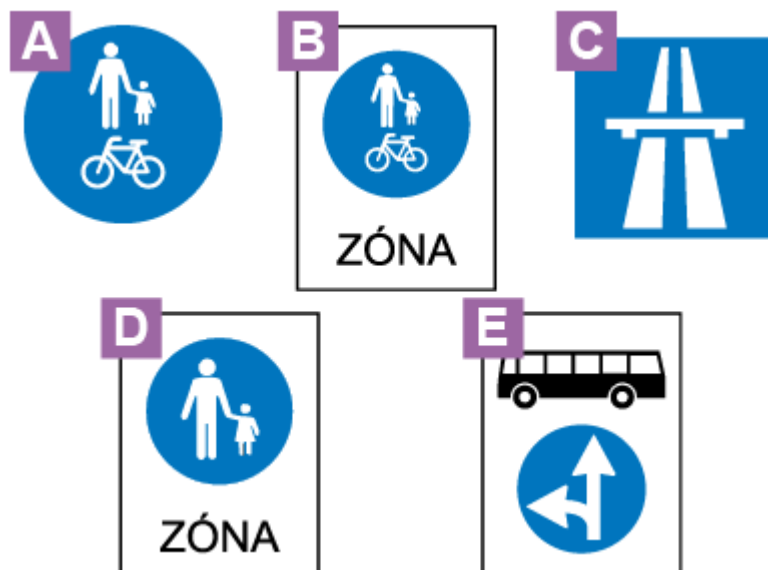
152. Az alábbiak közül melyik jelzőtábla jelzi a kerékpárutat?

- a) A
- b) B
- c) C
- d) D
- e) E



153. Az alábbiak közül melyik jelzőtábla jelzi azt, hogy kerékpárral nem hajthatsz be a következő útszakaszra?

- a) A
- b) B
- c) C
- d) D
- e) E




154. Az alábbiak közül melyik jelzőtábla jelzi azt, hogy kerékpárral közlekedve a következő útkereszteződésben elsőbbséged lesz a keresztező forgalommal szemben?

- a) A
- b) B
- c) C
- d) D
- e) E



155. Jelöld meg a veszélyt jelző táblát az alábbiak közül!

- a) A
- b) B
- c) C
- d) D



156. A "Behajtani tilos" tábla...

- a) kerékpárosokra nem vonatkozik.
- b) kerékpárosokra is érvényes.
- c) autósokra nem vonatkozik.



157. Ezzel a jelzőtáblával jelzett területen...

- a) kerékpárral nem lehet közlekedni.
- b) csak az ott lakók közlekedhetnek gyalog vagy kerékpárral.
- c) bárki és bármikor közlekedhet gyalog vagy kerékpárral.



158. Mi a képen látható tábla jelentése?

- a) Balra kanyarodni tilos
- b) Veszélyes útkanyarulat balra
- c) Csak balra szabad kanyarodni



159. Mi a képen látható tábla jelentése?

- a) Vasútállomás
- b) Vasúti átjáró
- c) Vonatmegállóhely





**160. Mi a képen látható tábla jelentése?**

- a) Kerékpárral behajtani tilos
- b) Kerékpárút vége
- c) 12 éves kor alatt tilos kerékpározni



**161. Mi a képen látható tábla jelentése?**

- a) Kötelező haladási irány: egyenes
- b) Egyirányú utca
- c) Kötelező haladási irány kerékpárosoknak



**162. Mi a képen látható tábla jelentése?**

- a) Gyalogút
- b) Kijelölt gyalogos-átkelőhely
- c) Vigyázz, gyalogosok!



163. Mi a képen látható tábla jelentése?

- a) Kátyús útszakasz
- b) Bukkanó
- c) Egyenetlen úttest



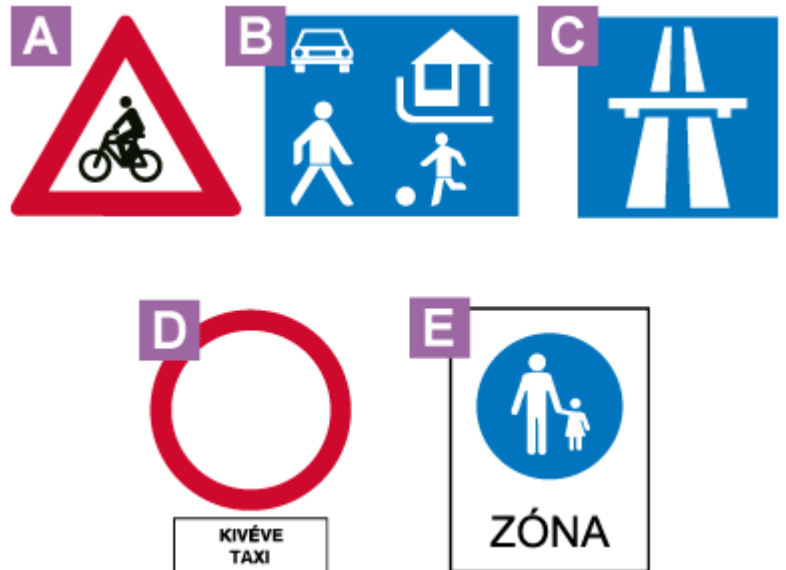
164. Mi a képen látható tábla jelentése?

- a) Kerékpárral behajtani tilos
- b) Kerékpárút vége
- c) 12 éves kor alatt tilos kerékpározni



165. Az alábbiak közül melyik jelzőtábla jelzi azt, hogy kerékpárral nem hajthatsz be a következő útszakaszra?

- a) A
- b) B
- c) C
- d) D
- e) E



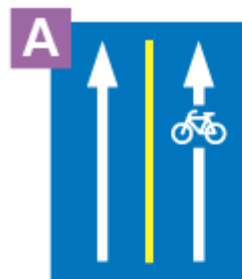
166. Válaszd ki azokat a táblákat, amelyeket látva biztosan közlekedhetsz ott bringával! (2 helyes válasz)

- a) A  
 b) B  
 c) C  
 d) D



167. Válaszd ki azokat a táblákat, amelyeket látva biztosan közlekedhetsz ott bringával! (2 helyes válasz)

- a) A  
 b) B  
 c) C  
 d) D



168. Válaszd ki azokat a táblákat, amelyeket látva nem szabad kerékpárral közlekedni! (2 helyes válasz)

- a) A  
 b) B  
 c) C  
 d) D



169. Egészítsd ki a mondatokat!

a) A veszélyt jelző táblák háromszög alakúak, szegélyük (a) színű.

b) Az utasítást, és a tájékoztatást adó táblák színe (b).

c) A tiltó táblák (c) alakúak, szegélyük piros színű.

Válaszok:

(a) piros

(b) kék

(c) kör

170. Jelöld be azokat a táblákat, amelyeknél tilos kerékpározni! (2 helyes válasz)

- a) A  
 b) B  
 c) C  
 d) D



171. Az alábbiak közül melyik jelzőtábla jelzi azt, hogy kerékpárral közlekedve elsőbbségadási kötelezettséged van? (3 helyes válasz)

- a) A  
 b) B  
 c) C  
 d) D  
 e) E

